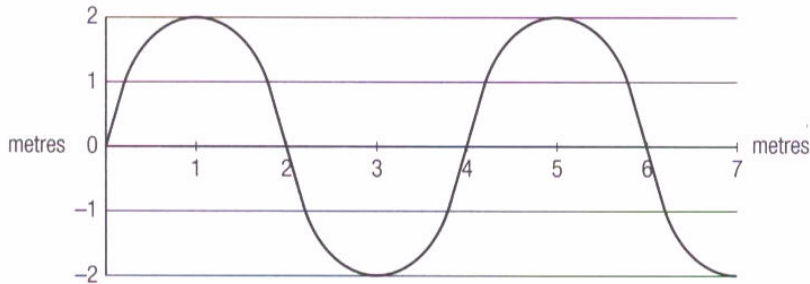


# Caractéristiques des ondes

Utilise l'information des graphiques pour répondre aux questions.

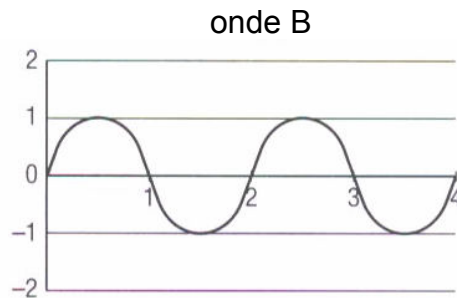
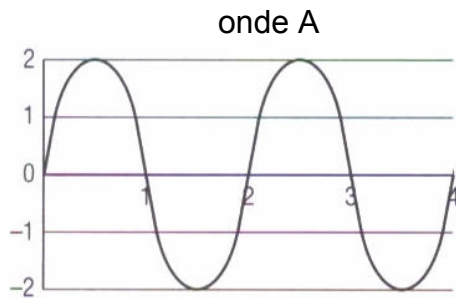
1. Quelle est la longueur d'onde de l'onde ci-dessous ? \_\_\_\_\_

2. Quelle est la grandeur de l'amplitude de l'onde ci-dessous ? \_\_\_\_\_



3. Des deux ondes suivantes, laquelle a la plus petite amplitude, A ou B ? \_\_\_\_\_

4. Laquelle des deux ondes transporte le plus d'énergie, A ou B ? \_\_\_\_\_



5. Laquelle est la même pour les ondes X et Y ci-dessous : l'amplitude, la longueur d'onde ou la fréquence ? \_\_\_\_\_

6. Laquelle a la plus grande fréquence, X ou Y ? \_\_\_\_\_

7. Laquelle a la plus grande longueur d'onde, X ou Y ? \_\_\_\_\_

